

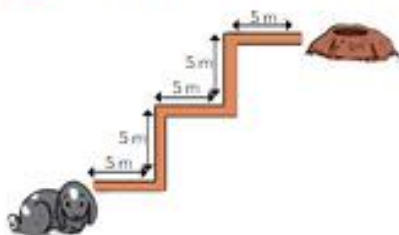
1 Inventa un problema a partir de esta imagen.



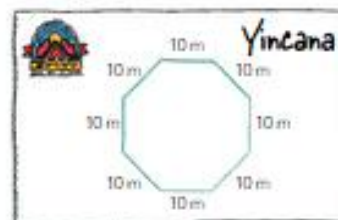
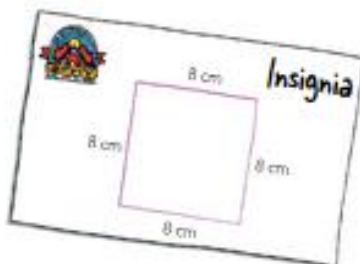
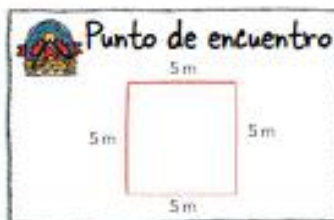
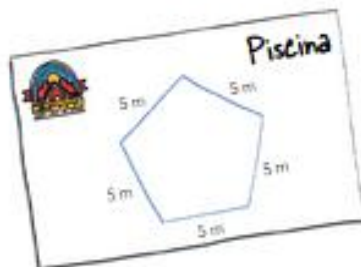
2 Inventa un problema a partir de esta imagen.



3 Inventa un problema a partir de esta imagen.



4 Dora la directora necesita calcular el perímetro de estos objetos y lugares del campamento. ¿Qué multiplicación tiene que utilizar en cada caso?



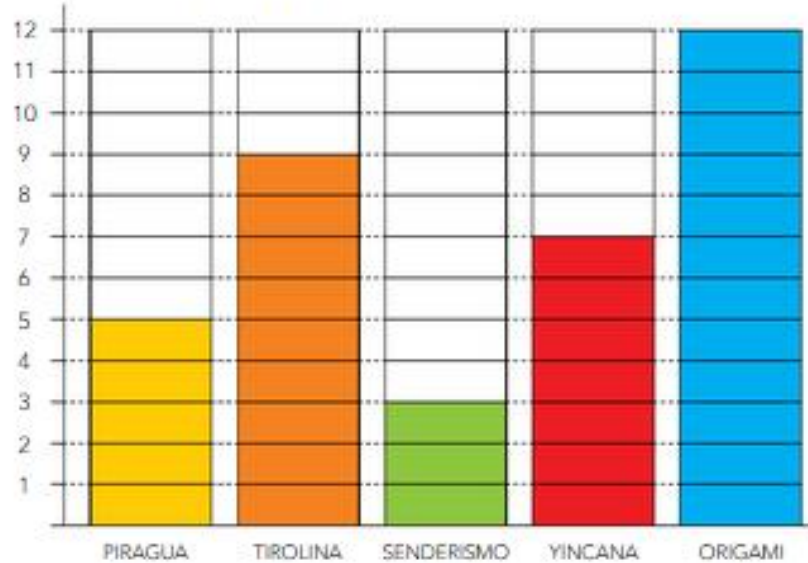
En voz alta

EL PERÍMETRO de una figura es la suma de las longitudes de sus lados.



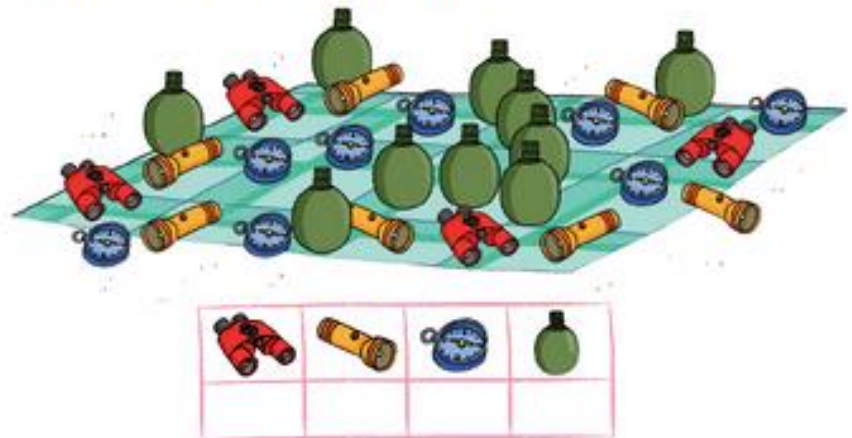
Gráficos de barras

1 Marta anota en este gráfico cuántas veces ha realizado cada actividad en el campamento.

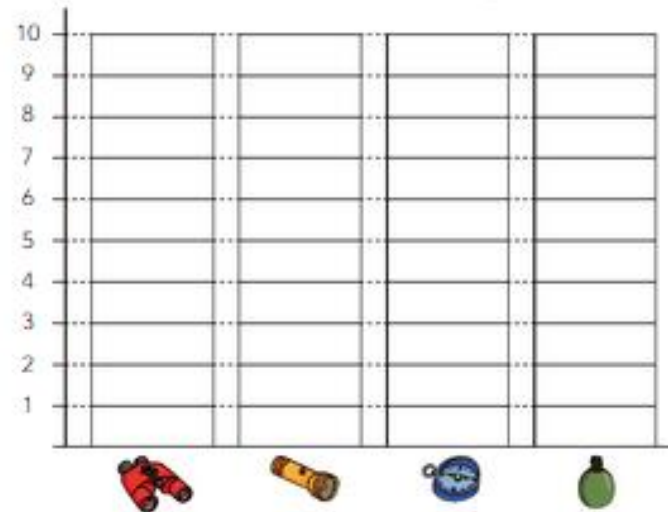


- ¿En cuántas yincanas ha participado Marta?
- ¿Qué actividad ha realizado menos veces?
- ¿Cuántas veces ha hecho piragua más que senderismo?
- ¿Y senderismo menos que tirolina?
- Si todos los días tenía taller de origami, ¿cuántos días duró el campamento?

2 Estos son los objetos que llevaban los monitores en las excursiones. Cuéntalos y completa la tabla.



3 Representa los datos de la tabla anterior en este gráfico.



utilizamos para medir longitudes.

Se escribe m.




Para medir longitudes pequeñas, utilizamos el centímetro.

Se escribe cm.

Para medir distancias largas, utilizamos el kilómetro.

Se escribe km.



1 Colorea la unidad de medida más adecuada en cada caso.



m cm km



m cm km



m cm km

2 ¿Cuánto miden estas longitudes? Elige y señala.




15 m
 15 cm
 15 km



2 m
 2 cm
 2 km

- La cuerda amarilla mide 4 cm menos que la azul.
- La cuerda verde mide 2 cm más que la amarilla.



4 Ordena estas medidas de menor a mayor.

32 cm

32 m

32 km

3 cm



5 ¿Cuánto mides, más o menos que un metro? Utiliza una cinta métrica para averiguarlo.

menos que 1 m más que 1 m

¿Sabías que 1 metro son 100 centímetros?
1 m = 100 cm



¿Sabes que con tus manos puedes medir longitudes? ¡Cuidado! Como todos los palmos no miden lo mismo, los resultados son distintos. ¡Haz la prueba!



En equipo, realizamos un mural con lo que hemos comprobado.

¿Qué te ha gustado más del trabajo de tus compañeros y compañeras?

